

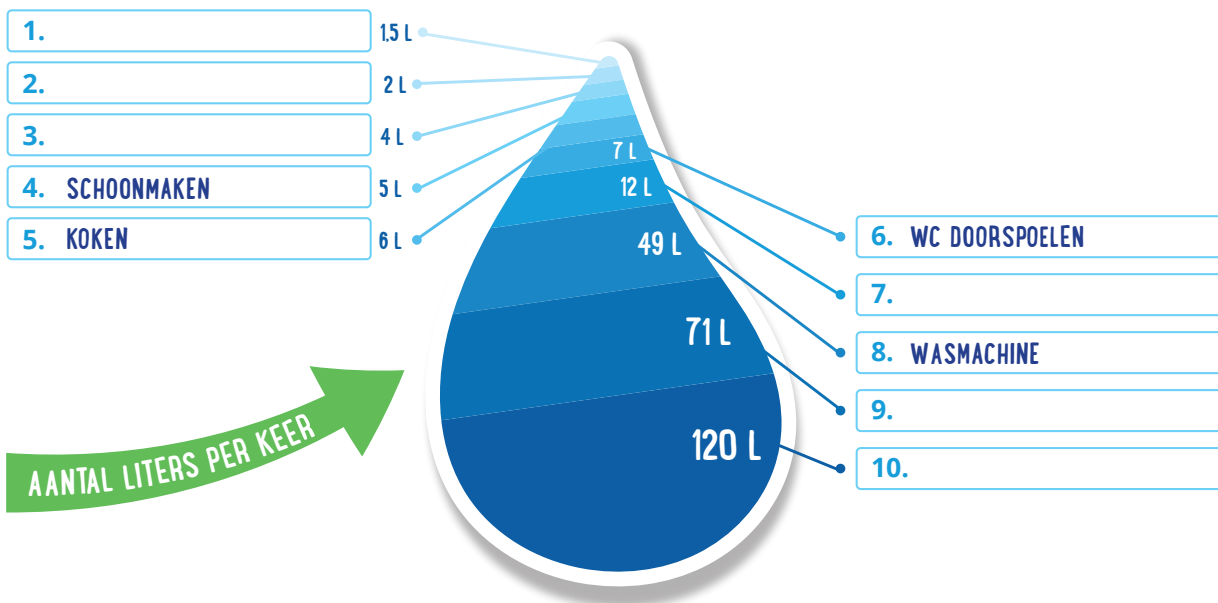
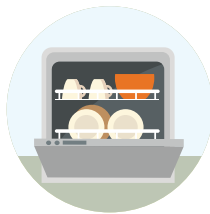
NAAM:

GROEP:

DOEBLAD
groep 4-5-6

OPDRACHT 1 | Hoeveel water?

- a. Waarbij gebruik je het meeste water en waarbij het minste? In de druppel zie je hoeveel liter je per keer gebruikt. Vul de activiteiten in op de juiste plek. Je kan kiezen uit:




- b. Voor groep 5 en 6: Je staat 's ochtends op en je gaat 1 keer naar de wc, je doucht 1 keer, en je vult voor jou én je broertje of zusje een bidon met water (samen 1 liter). Hoeveel liter water heb je 's ochtends dan gebruikt? Reken uit!



liter water

OPDRACHT 2 | Slim, slimmer, slimst

a. Hoe kan het slimmer? Schrijf achter elke activiteit jouw tip om water te besparen.



TIP:

~~~~~

~~~~~

~~~~~

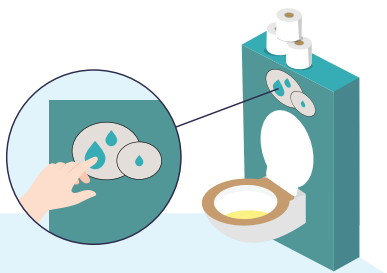


TIP:

~~~~~

~~~~~

~~~~~



TIP:

~~~~~

~~~~~

~~~~~




TIP:

~~~~~

~~~~~

~~~~~



TIP:

~~~~~

~~~~~

~~~~~



TIP:

~~~~~

~~~~~

~~~~~



b. Als je de wc doorspoelt met de grote spoelknop gebruik je 7 liter water, met de kleine 4 liter. Zoraya spoelt elke dag 10 keer door met de grote knop. Lucas spoelt 10 keer door met de kleine. Hoeveel liter water gebruikt Lucas minder op een dag?

$$\boxed{\quad} - \boxed{\quad} = \boxed{\quad} \text{ liter water}$$